



# Co jsme se letos naučili


1 Kolik je to korun?




\_\_\_\_\_



\_\_\_\_\_



\_\_\_\_\_



\_\_\_\_\_

2 Zapište číslicemi.

sedm tisíc devět set šedesát tři

\_\_\_\_\_

pět tisíc osmdesát devět

\_\_\_\_\_

čtrnáct tisíc dvě stě třicet šest

\_\_\_\_\_

osmdesát dva tisíce sedm set padesát

\_\_\_\_\_

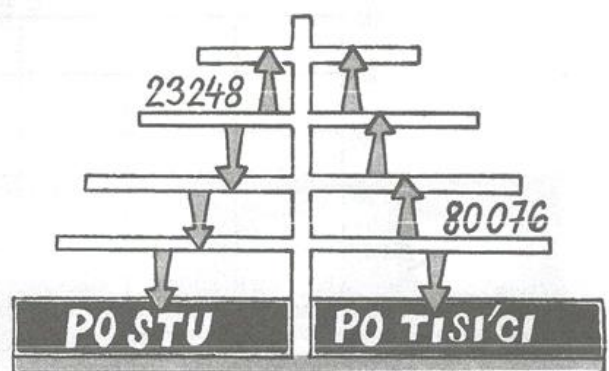
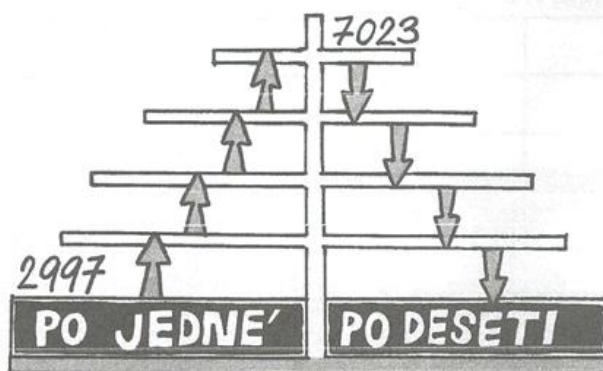
šest set devadesát tisíc čtyřicet osm

\_\_\_\_\_

tři miliony čtyřicet sedm tisíc osm set dvacet jedna

\_\_\_\_\_

3 Doplňte čísla. Počítejte.



4 Je to pravda?

~~7842 < 7428~~

4 970 < 790

132 856 < 32 948

978 < 9 780

5 906 < 3 906

28 061 < 29 033

59 001 > 58 962

4 875 < 48 752

23 473 > 23 472

10 518 > 6 058

609 703 > 906 037

70 236 < 7 023

56 364 > 56 164

3 447 > 3 744


81 159 < 97 403

9 999 > 999

5

Kolik knih si vypůjčili ze školní knihovny žáci každého ročníku za celý týden?

ročník	PO	ÚT	ST	ČT	PÁ	na týden
1	8	5	10	12	15	
2	3	8	5	17	12	
3	11	23	7	9	30	
4	28	16	3	21	42	
5	17	36	7	14	26	
6	38	6	14	42	5	
7	5	13	0	27	5	
8	36	15	9	6	24	
9	3	7	12	8	20	



Nejvíce knih si vypůjčili žáci \_\_\_\_\_

Žáci 1. stupně si za týden vypůjčili \_\_\_\_\_

Žáci 4. ročníku si půjčili o \_\_\_\_\_ knih více než žáci 8. ročníku.

Pátáci si půjčili \_\_\_\_\_ krát více knih než žáci 7. ročníku.

Tvořte další úlohy o půjčování knih.

Dokončete diagram.

